

ATIVIDADES

O Instituto Brasileiro de Geografia e Estatística (IBGE) dividiu o Brasil em cinco grandes regiões: Norte, Nordeste, Sudeste, Sul e Centro-Oeste. O contorno de cada região coincide com os limites entre os estados. Embora apresente algumas limitações, esta divisão regional é a mais conhecida e a mais utilizada.

1 Pinte de verde os estados que formam a Região Norte: Rondônia, Acre, Amazonas, Roraima, Pará, Amapá e Tocantins. Pinte da mesma cor o retângulo correspondente na legenda.

2 Complete as frases:

a) A mais extensa das regiões brasileiras é a Região _____, formada por _____ estados. Os dois estados mais extensos dessa região são _____ e o mais novo é _____.

b) A Região Norte é cortada pelo paralelo _____.

3 Pinte de laranja os estados que formam a Região Nordeste: Maranhão, Piauí, Ceará, Rio Grande do Norte, Paraíba, Pernambuco, Alagoas, Sergipe e Bahia. Pinte da mesma cor o retângulo correspondente na legenda.

4 Complete as frases:

a) A Região Nordeste é formada por _____ estados, todos banhados pelo oceano _____.

b) O maior estado da Região Nordeste é _____ e o menor é o estado _____.

5 Pinte de vermelho os estados que formam a Região Sudeste: Minas Gerais, Espírito Santo, São Paulo e Rio de Janeiro. Pinte da mesma cor o retângulo correspondente na legenda.

6 Complete as frases:

a) A Região Sudeste é formada por _____ estados. Apenas _____ não é banhado pelo mar.

b) A Região Sudeste é cortada pelo _____, que passa pelo sul do estado de São Paulo.

7 Pinte de amarelo os estados que formam a Região Sul: Paraná, Santa Catarina e Rio Grande do Sul. Pinte da mesma cor o retângulo correspondente na legenda.

8 Complete as frases:

a) A menos extensa das regiões brasileiras é a Região _____, formada por _____ estados. O maior estado dessa região é _____.

b) A Região Sul tem a maior parte de suas terras ao sul do trópico de _____.

9 Pinte de roxo o Distrito Federal (onde se situa Brasília, nossa capital) e os estados de Mato Grosso, Goiás e Mato Grosso do Sul, que formam a Região Centro-Oeste. Pinte da mesma cor o retângulo correspondente na legenda.

10 Complete as frases:

a) A Região Centro-Oeste é formada pelo _____ e por _____ estados.

b) A Região Centro-Oeste é a única região brasileira que se limita com todas as outras regiões: _____. É também a única que não é banhada pelo _____.

11 Cubra com caneta preta os limites das cinco grandes regiões brasileiras.

12 Identifique a região a que pertence cada um desses estados, escrevendo nos parênteses as siglas correspondentes:

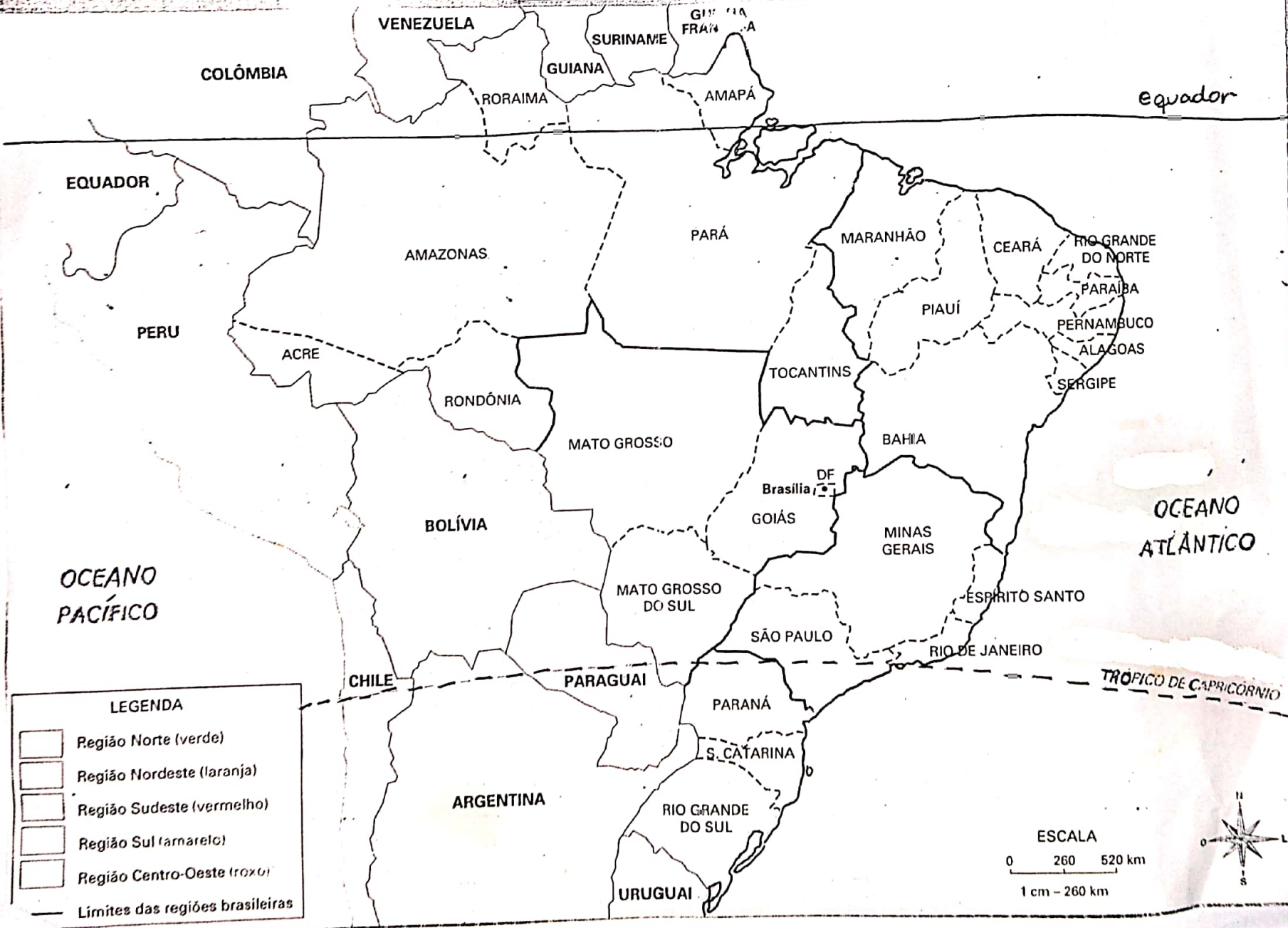
Regiões

- (N) Norte
- (NE) Nordeste
- (SE) Sudeste
- (S) Sul
- (CO) Centro-Oeste







Estados

- () Mato Grosso do Sul
- () Santa Catarina
- () Amazonas
- () Minas Gerais
- () Pernambuco
- () Paraná
- () Tocantins
- () São Paulo
- () Goiás
- () Bahia

Brasil: regiões



LEGENDA

-  Região Norte (verde)
-  Região Nordeste (laranja)
-  Região Sudeste (vermelho)
-  Região Sul (amarelo)
-  Região Centro-Oeste (larva)
-  Limites das regiões brasileiras

