



COLÉGIO EVANGÉLICO ALMEIDA BARROS			
Revisão	Disciplina: Geografia		TURNO
Professor (a):	Amália Domingos	Data:	Turma: 602
Aluno (a):			

1- Escreva CERTO ou ERRADO:

\* Conservar a natureza significa:

- (A) Aproveitar somente os recursos naturais renováveis. (\_\_\_\_\_)
- (B) Deixar grandes espaços intocáveis, livres da presença humana.  
(\_\_\_\_\_)
- (C) Aproveitar seus recursos obedecendo as regras por ela estabelecidas.  
(\_\_\_\_\_)
- (D) Utilizá-la de modo a não lhe causar dano. (\_\_\_\_\_)

2- Em sua opinião, se os problemas ambientais não forem resolvidos, quais serão os riscos para a sobrevivência das futuras gerações do planeta?

---

---

---

---

3- Complete as lacunas de acordo com o quadro:

Geográfica – natural – cultural - paisagem

- a) O conjunto de elementos de uma área qualquer forma uma \_\_\_\_\_
- b) Os elementos criados pela natureza formam a paisagem \_\_\_\_\_
- c) A paisagem \_\_\_\_\_ é formada pelos elementos criados pelos homens.
- d) A paisagem \_\_\_\_\_ é o conjunto de elementos culturais e elementos naturais mais ou menos modificados pela ação dos homens.

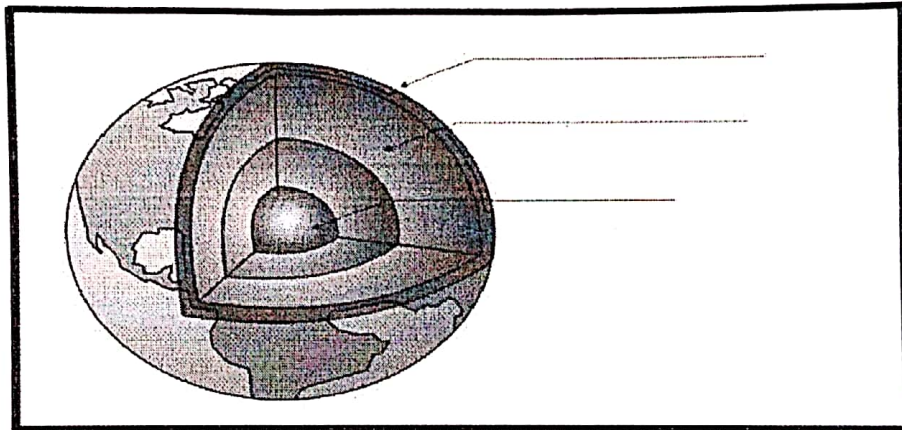


4- Relacione as colunas, com as mudanças que as atividades humanas acarretam, e trazem muitos problemas e alterações na natureza:

- (A) Canalização de rios e lançamento de esgotos neles.
- (B) Lançamento de fumaça na atmosfera pelas fábricas e carros.
- (C) desmatamento e extinção da fauna (animais silvestres) de um lugar.
- (D) Ocupação de morros e áreas montanhosas com casas e estradas.
- (E) Asfaltamento de solos, que ficam compactos (isto é, duros).

- Riscos de deslizamentos e desabamentos nas chuvas.
- Morte dos peixes.
- Risco de não infiltração das águas das chuvas no solo, o que traz inundações
- Risco de doenças pulmonares ocasionadas pelo ar poluído.
- Extermínio de inúmeras espécies de seres vivos.

5- Escreva nas linhas correspondentes, os nomes das camadas da Terra:



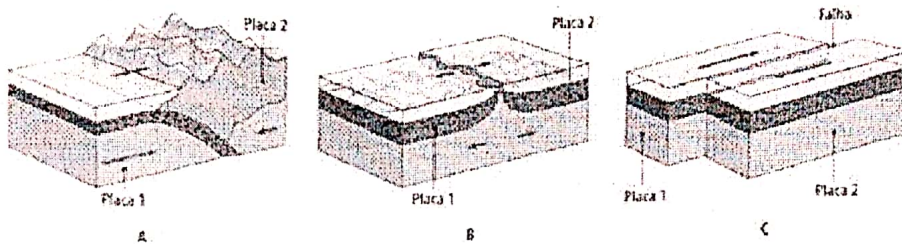
6- Qual das opções abaixo se refere a agentes exógenos ou agentes erosivos externos que modelam a superfície terrestre:

- (A) vulcanismos e terremotos.
- (B) tsunamis e maremotos.
- (C) águas, vento, neve e seres vivos.
- (D) tectonismos, abalos sísmicos e geleiras.

7- As rochas podem ser agrupadas segundo sua origem e formação, sendo assim elas podem ser:

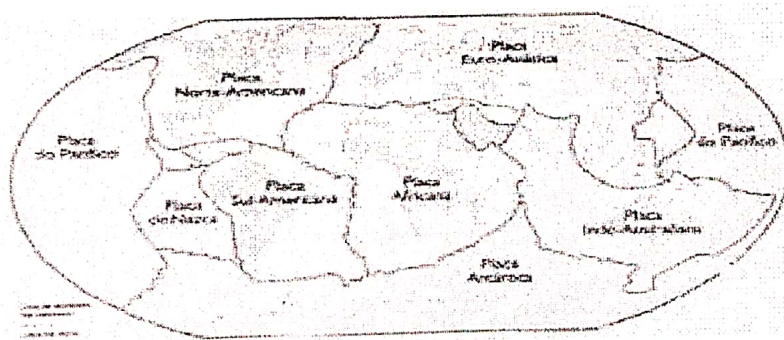
- (A) aluvionares, vulcânicas e metamórficas.
- (B) sedimentares, graníticas e ígneas.
- (C) magmáticas, vulcânicas e elementares.
- (D) magmáticas, sedimentares e metamórficas.

8- Indique os nomes dos limites abaixo:



- A) \_\_\_\_\_
- B) \_\_\_\_\_
- C) \_\_\_\_\_

9- Observe o planisfério e complete as lacunas:



O Brasil está situado sobre a placa \_\_\_\_\_